
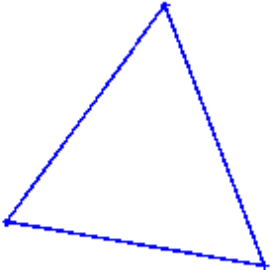




## Punti e segmenti

	Disegniamo un triangolo
	Domanda: su quanti oggetti dovremo agire per cancellare l'intero poligono?
	Dopo le ipotesi provare a cancellare utilizzando il cestino
	In realtà si tratta di sei oggetti: segmenti e punti

Provare poi a ragionare in maniera opposta: quanti oggetti devo disegnare per costruire un quadrato, un pentagono...? (utilizzare sempre gli strumenti punti e segmenti, non lo strumento poligono, che lavorando anche sulla superficie non visualizza in modo immediato la sparizione degli oggetti.)